

Competencia Monopolística

EJERCICIOS

Profesor Guillermo Pereyra
guillermopereyra@microeconomia.org
www.microeconomia.org
clases.microeconomia.org

1. ¿Cuál de las siguientes alternativas no es característica de la competencia monopolística?
 - a Pequeño número de vendedores
 - b Productos diferenciados
 - c Entrada relativamente fácil
 - d Curva de demanda muy elástica

2. La existencia de muchos buenos sustitutos se expresa a través de
 - a Una curva de demanda muy elástica
 - b Una curva de demanda muy inelástica
 - c Una curva de demanda perfectamente inelástica
 - d La ausencia de publicidad

3. Una empresa monopolísticamente competitiva está operando al nivel de producción donde $CMg = 0.15$ y el $IMg = 0.15$. Entonces la empresa debe:
 - a Mantener la producción al nivel del punto de equilibrio porque el beneficio medio es cero.
 - b Expandir la producción para incrementar el beneficio.
 - c Contraer la producción para incrementar el beneficio.
 - d Mantener el nivel de producción porque cualquier desviación hacia arriba o hacia abajo resultará en un menor beneficio.

4. La condición $P = CMe$ representa el equilibrio de largo plazo bajo
 - a Monopolio
 - b Competencia Perfecta
 - c Competencia Monopolística.
 - d Competencia Perfecta y Competencia Monopolística.

5. ¿Cuál de las siguientes alternativas no es implícita debido al exceso de capacidad en industrias monopolísticamente competitivas?
 - a Muchas empresas estarán operando a pérdida.
 - b El consumidor paga por la mayor diferenciación de los productos.
 - c El mismo nivel de producción pudo haber sido producido por menos empresas a costos menores.
 - d En equilibrio de largo plazo el costo medio será mayor para las empresas monopolísticamente competitivas que para las empresas en competencia perfecta que generan el mismo nivel de producción.

6. Una característica común para las empresas bajo monopolio, competencia perfecta y competencia monopolística es que:
 - a Obtienen el máximo beneficio o la mínima pérdida siguiendo la regla $CMg = IMg$.

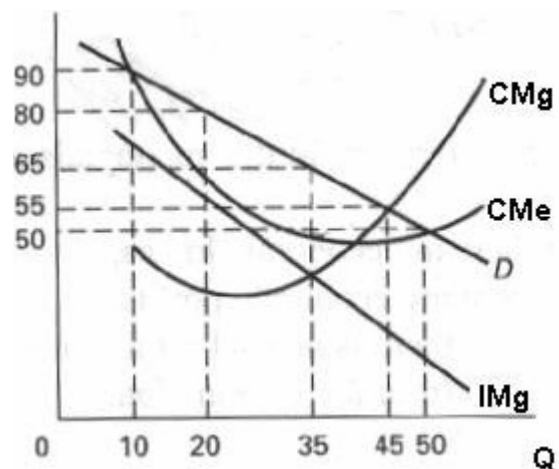
- b Tienen las mismas soluciones de equilibrio de largo plazo.
 - c Tienen las mismas condiciones de de entrada y salida del mercado.
 - d Emplean publicidad.
7. Los mejores ejemplos de competencia monopolística son:
- a Las industrias donde existen muchas empresas produciendo versiones ligeramente diferentes de algún producto
 - b Las industrias donde existen muchas empresas produciendo el mismo producto
 - c Las industrias donde sólo unas pocas empresas producen versiones ligeramente diferentes de un producto
 - d Las industrias donde sólo unas pocas empresas producen el mismo producto
8. ¿Cuál de las siguientes características corresponden a la competencia monopolística?
- a Producto diferenciado;
 - b Un número relativamente pequeño de empresas;
 - c Ausencia de competencia más allá de la variable precio;
 - d Rígidas barreras de entrada.
9. ¿Cuál de las siguientes alternativas no es una forma de producto diferenciado para un competidor monopolista?
- a Marcas y registros;
 - b Promoción y empaques;
 - c Ubicación y accesibilidad;
 - d Procedimientos y horarios.
10. ¿Señale cuál de las siguientes afirmaciones es verdadera en el caso de la competencia monopolística.
- a Los competidores monopolistas pueden obtener beneficios económicos en el largo plazo;
 - b Los competidores monopolistas pueden tener pérdidas económicas en el corto plazo;
 - c La competencia monopolística está caracterizada por unas pocas grandes empresas altamente competitivas que dominan la industria;
 - d Los competidores monopolistas no tienen control sobre el mercado de sus productos.
11. Cuando un competidor monopolista tiene exceso de capacidad:
- a La producción real cae debajo del nivel de producción donde el costo medio es mínimo;
 - b Esta se debe a las rigurosas barreras de entrada a la industria;

- c Esta se debe al diferencial entre el precio y el costo marginal que caracteriza a la competencia monopolística;
- d Entonces obtendrá economías de escala.

12. Observe el gráfico de la derecha.

Si este competidor monopolista se encuentra en equilibrio de corto plazo, el precio y la producción que maximizan el beneficio, serán:

- a 50 y 50
- b 55 y 45
- c 65 y 35
- d 80 y 20.



13. Observe el gráfico de la derecha.

En el equilibrio de corto plazo la empresa obtendrá:

- a Un beneficio económico de 525;
- b Un beneficio económico de 2275;
- c Una pérdida económica de 1750;
- d Un beneficio económico de 1750.

14. La pendiente negativa de la curva de demanda de un competidor monopolista refleja:

- a La diferenciación del producto;
- b La capacidad para fijar el precio del Mercado debido a que el producto es único;
- c Una curva de demanda relativamente elástica que la empresa enfrenta debido a la existencia de muchos sustitutos cercanos;
- d Todas las anteriores son reflejo de una curva de demanda de pendiente negativa.

15. La curva de demanda que enfrenta un competidor monopolista:

- a Es más elástica que la curva de demanda del monopolista;
- b Es menos elástica que la curva de demanda del monopolista;
- c Se desplazará hacia la derecha con la entrada de nuevas empresas a la industria;
- d es más elástica que la curva de demanda que enfrenta una empresa competitiva.

16. Una empresa en competencia monopolística está produciendo al nivel donde el costo medio es 10, el costo marginal es 5, el ingreso marginal es 6 y el precio es 12. En el corto plazo la empresa debe:

- a Disminuir el nivel de producción

- b Incrementar el nivel de producción
- c Mantener el nivel de producción
- d Incrementar el precio.

P	Q _D	CT	Q
20	1	10	1
18	2	20	2
16	3	29	3
14	4	36	4
12	5	40	5
10	6	42	6

17. El cuadro de la izquierda muestra información de demanda y costos para un competidor monopolístico. ¿Cuál será el nivel de producción que maximiza el beneficio de este competidor monopolístico?

- a 3
- b 4
- c 5
- d 6

18. En relación al problema anterior ¿cuál será el beneficio o pérdida económica para este competidor monopolista al nivel de producción encontrado?

- a -15
- b 10
- c 20
- d 27

19. La curva de costo marginal intercepta la curva de costo medio de una empresa en competencia monopolística

- a Al precio de mercado
- b Al costo medio mínimo
- c A la izquierda del costo medio mínimo
- d A la derecha del costo medio mínimo

20. En el corto plazo la empresa en competencia monopolística experimentará

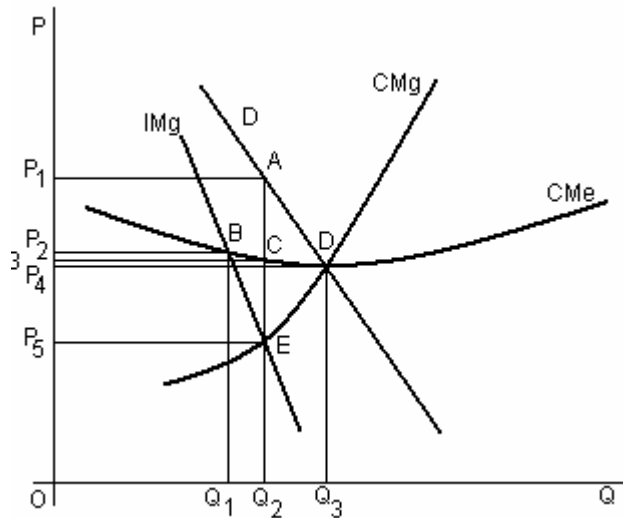
- a Beneficios económicos y también en el largo plazo
- b Beneficios normales pero beneficios económicos en el largo plazo
- c Beneficios ó pérdidas económicas pero beneficios normales en el largo plazo
- d Beneficios ó pérdidas económicas pero beneficios económicos en el largo plazo.

21. Suponga que algunas empresas salen de una industria en competencia monopolística. Entonces debemos esperar que la curva de demanda de una empresa que se mantiene en la industria

- a Se desplazará a la izquierda
- b Se desplazará a la derecha
- c Se hará más elástica
- d Se mantiene igual.

22. ¿Cuál de las siguientes alternativas es falsa en relación a la competencia monopolística?
- a En el largo plazo $P = CMe > CMg$
 - b Las empresas pueden tener pérdidas en el corto plazo
 - c Las empresas diferencian sus productos pero sus productos son relativamente sustituíbles
 - d Las empresas pueden obtener beneficios económicos en el largo plazo cuando las barreras de entrada son significativas.
23. Una empresa en competencia monopolística tenderá a obtener beneficios económicos
- a En el corto y en el largo plazo
 - b Y pérdidas económicas en el corto y en el largo plazo
 - c o pérdidas en el corto plazo pero estará en el punto de equilibrio en el largo plazo
 - d o pérdidas en el corto plazo pero obtendrá beneficios económicos en el largo plazo
24. las empresas en competencia monopolística son productivamente ineficientes porque
- a el costo marginal es mayor que el ingreso marginal
 - b el costo marginal es menor que el ingreso marginal
 - c el costo medio es mayor que el costo medio mínimo
 - d el costo medio es menor que la diferencia entre el costo medio y el costo variable medio.
25. ¿Cuál de las siguientes alternativas no es un supuesto de la teoría de la competencia monopolística?
- a Existen altas barreras de entrada
 - b Muchos vendedores y pocos compradores
 - c Cada empresa produce y vende un producto homogéneo
 - d Todas las anteriores.
26. A consecuencia de no operar sobre el nivel de producción donde el costo es minimizado, se puede sostener que la empresa en competencia monopolística fija un precio _____ y un nivel de producción _____.
- a alto , pequeña
 - b bajo, pequeña
 - c alto, grande
 - d bajo, grande

27. En una industria monopolísticamente competitiva



- a Cada empresa produce bienes ligeramente diferenciados
- b Existen barreras a la entrada
- c Existen barreras a la salida
- d Existen pocos vendedores

28. Observe el gráfico de la izquierda. ¿Cuál de los siguientes puntos representa el precio y cantidad de equilibrio de corto plazo de un competidor

monopolístico?

- a A
- b B
- c C
- d D

29. El supuesto que permite excluir beneficios económicos en el largo plazo para la industria en competencia monopolística es

- a Existen muchos compradores y vendedores
- b Las empresas practican el liderazgo en precios
- c No hay barreras a la entrada ni a la salida
- d Compradores y vendedores cuentan con la información apropiada

30. El competidor monopolístico enfrenta

- a Una curva de demanda horizontal
- b Una curva de demanda vertical
- c Una curva de demanda con pendiente negativa
- d Una curva de demanda con pendiente positiva

31. ¿Cuál de las siguientes alternativas es un supuesto no compartido por el modelo de competencia monopolística ni el modelo de competencia perfecta

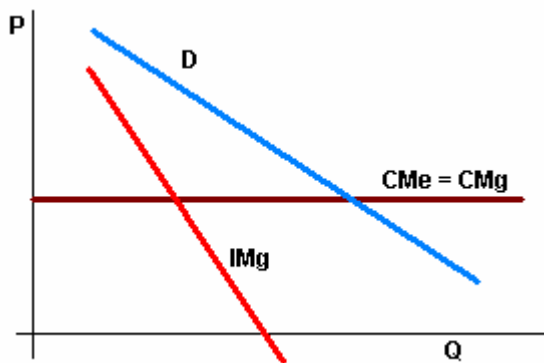
- a Muchos compradores y vendedores
- b Productos diferenciados
- c Fácil entrada al mercado
- d Fácil salida del mercado

32. Uno de los beneficios de un mercado en competencia monopolística es

- a La producción al nivel del costo medio mínimo de largo plazo
- b Variedad de productos diferenciados
- c Mayor producción que en la competencia perfecta
- d Menor precio que en la competencia perfecta

33. La diferenciación de productos es una forma de

- a Arbitraje
 - b Competencia más allá de los precios
 - c Competencia en precios
 - d Ineficiencia productiva
- a) competencia perfecta



34. Observe el grafico de la izquierda correspondiente a una empresa en competencia monopolística. ¿Se encuentra en equilibrio de largo plazo?

- a) Si porque $P = CMe = CMg$
- b) Si porque $IMg = CMg$
- c) No porque el $P > CMe$
- d) No porque el $P < CMe$

35. La empresa Auto ABC es una de muchas tiendas de venta de autopartes en La Victoria, Lima. Suponga que la siguiente información es correcta: $P = 15$, $IMg = 8$, $CMe = 15$, $CMg = 8$. ¿Qué tipo de mercado es este?

- a) Monopolio
- b) Competencia Perfecta
- c) Competencia Monopolística
- d) Oligopolio